

# Repaso 1

- Clasifica y completa la ficha de los siguientes templos:



1



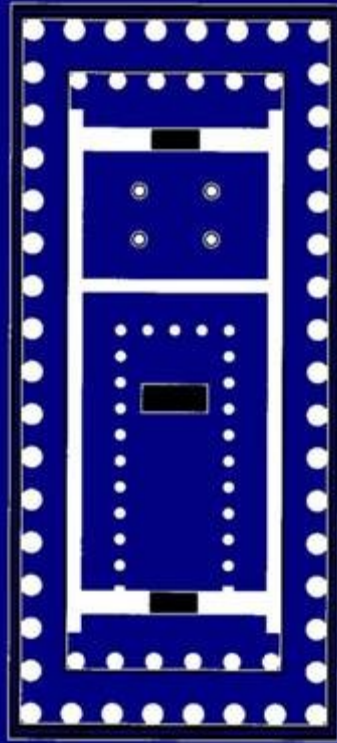
2



3


# Repaso 2

- De qué templo se t



# Repaso 3


- Ordena cronológicamente. En qué razones te has basado



1



2

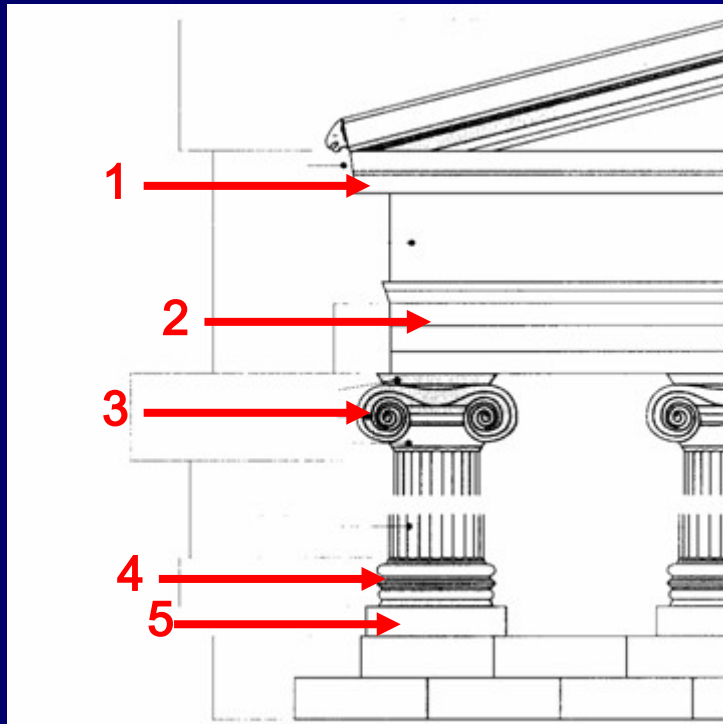


3

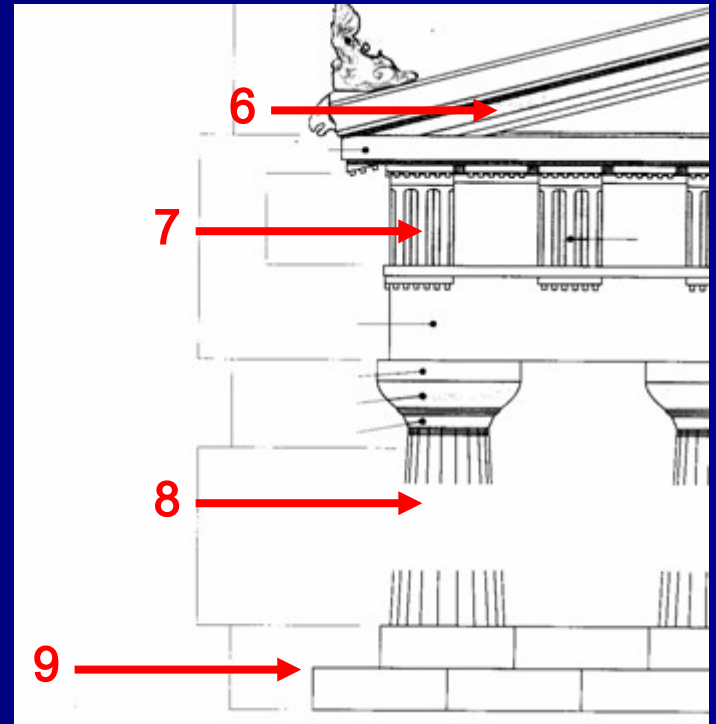
# Repaso 4

## ■ Rellena tú mismo:

ORDEN: \_\_\_\_\_




ORDEN: \_\_\_\_\_



# Repaso 5: Compara estos dos efebos.



1



2

# Repaso 6

- Nombra un autor del periodo Clásico
- Nombra una obra de Mirón
- Nombra una obra de Praxiteles
- Nombra una obra de Fidias
- Nombra una obra de Policleto

# Repaso 7. Ordena obras, autores y títulos



1.- Policleto: Venus de Cnido

2.- Praxiteles: Esculturas del Partenon



3.- Fidias: Doríforo

# Solución

- 1.- Fidias: Esculturas del Partenon
- 2.- Policleto: Doríforo
- 3.- Praxiteles: Venus de Cnido



# Repaso 8: A qué periodo del arte griego corresponden las siguientes esculturas:



1



2



3

# Solución:

- 1.- Arte Minóico
- 2.- Arte Micénico
- 3.- Helenístico


# Repaso 9. Ordena por orden cronológico las siguientes obras



1



2



3



4

# Solución:


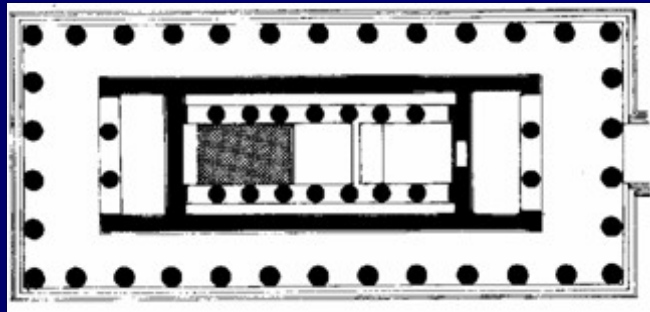
- 1.- 1 (Puerta de los Leones).-  
MICENAS
- 2.- 4 (Kuró)
- 3.- 2 (Auriga de Delfos)
- 4.- 3 (Teatro de Epidauro).-  
HELENÍSTICO

# Repaso 10. Define los siguientes conceptos

- Korés
- Contraposto
- Erecteion
- Jónico
- Opistódomos
- Cícladas
- Alejandro Magno
- Metopa
- Acrópolis
- Fuste
- Kanon
- Pathos
- Propíleos
- Hipodamos

# Comentario 1:

Haz un esquema de comentario de la siguiente obra



# Comentario 2:

Haz un esquema de comentario de la siguiente obra

